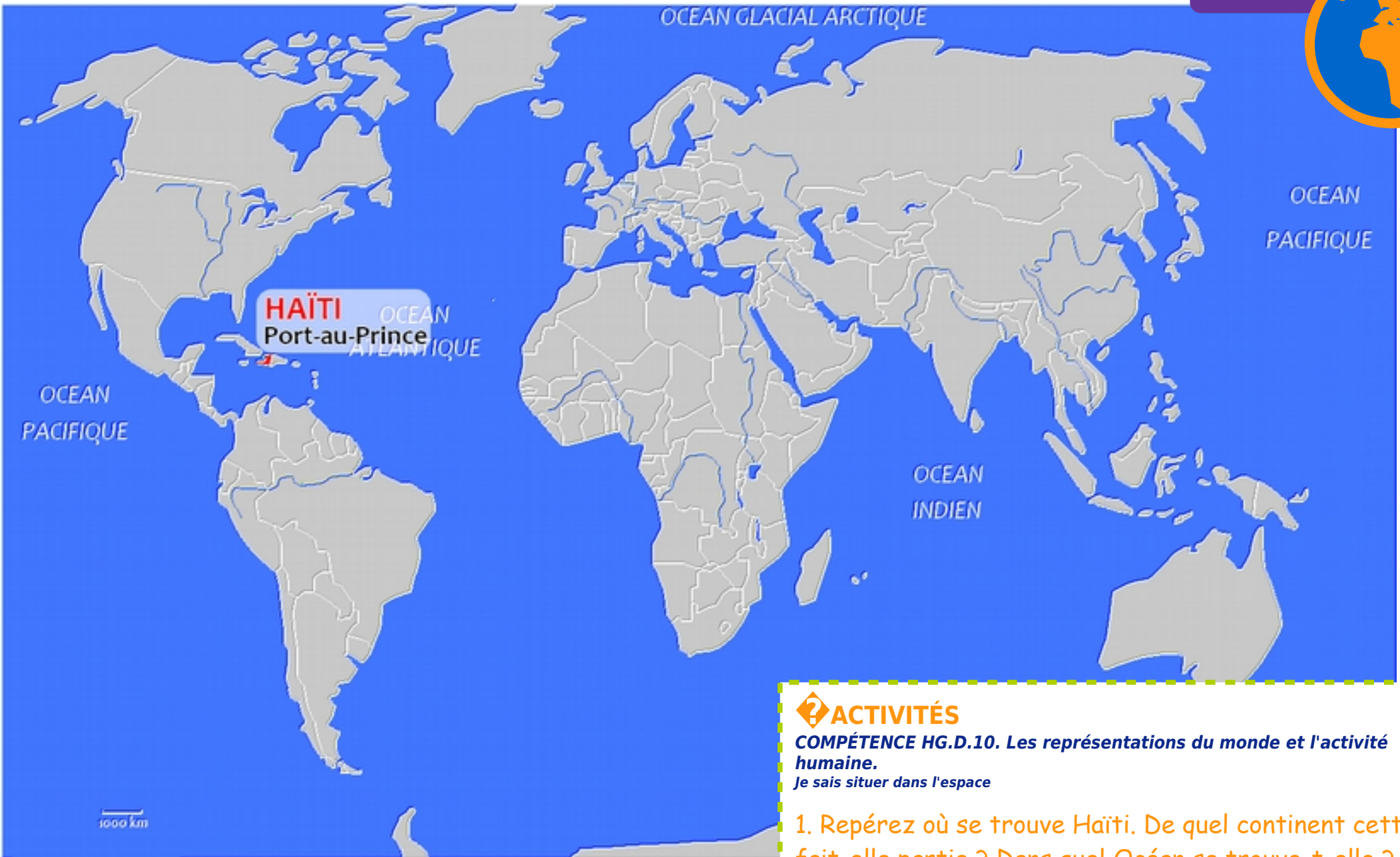


5

Des sociétés inégalement
vulnérables face aux
risques



ACTIVITÉS

COMPÉTENCE HG.D.10. Les représentations du monde et l'activité humaine.

Je sais situer dans l'espace

1. Repérez où se trouve Haïti. De quel continent cette île fait-elle partie ? Dans quel Océan se trouve-t-elle ?

1 ● VIDÉO Une catastrophe à Haïti

Extrait du journal de 20h00 de France 2, le 14 janvier 2010, ina.fr



2 ● VIDÉO Haïti 6 mois après la catastrophe

Extrait du journal de 13h00 de France 2, 12 juillet 2010, ina.fr



ACTIVITÉS

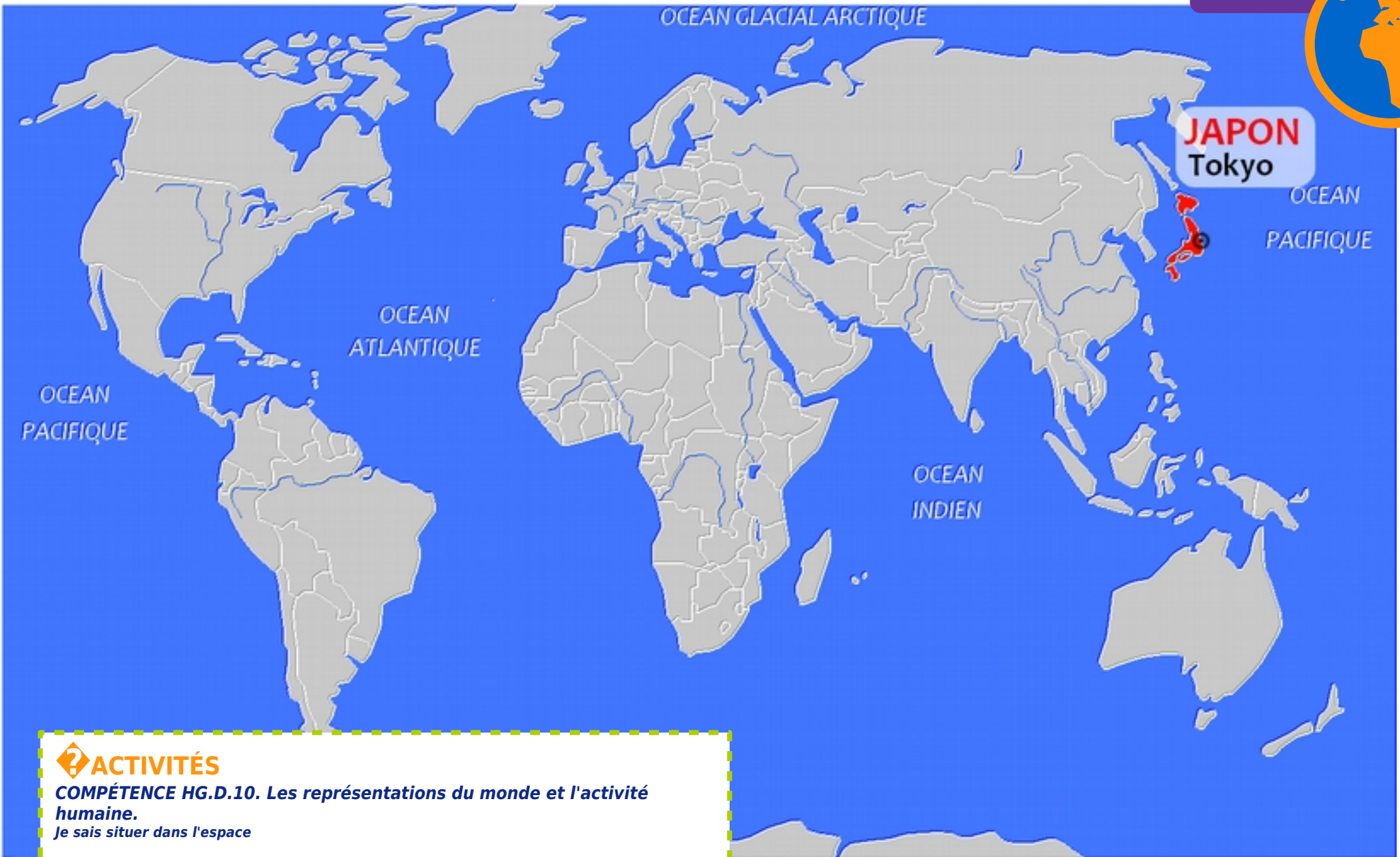
COMPÉTENCE HG C.7. Raisonner, justifier une démarche et les choix effectués.

Je sais étudier un document (présenter le document, extraire des informations, les comprendre, les critiquer)

2. **Doc. 1. VIDÉO. Regardez seulement les titres, du journal.** Quelle catastrophe a touché Haïti en 2010 ?
3. **DOC. 1. VIDÉO. Commencez le visionnage à 14:25 et terminez à 16:03.** Pourquoi les dégâts sont-ils si importants ?
4. **Doc. 2. VIDÉO.** Combien y a-t-il eu de victimes pour ce tremblement de terre de magnitude 7,1 ?
5. Pourquoi la reconstruction est-elle si lente selon vous ?
6. Qui aide Haïti ?

● Je situe mon étude de cas

SITUER



ACTIVITÉS

COMPÉTENCE HG.D.10. Les représentations du monde et l'activité humaine.

Je sais situer dans l'espace

7. Repérez où se trouve le Japon. De quel continent cet ensemble d'îles fait-il partie ? Dans quel Océan se trouve-t-il ?

GÉO

L. Pavageau, Collège Saint-Exupéry, Éguzon-Chantôme

3 ● VIDÉO Le séisme de 2011 au Japon

Extrait du journal de 20h00 de France 2, le 11 mars 2011, ina.fr



ACTIVITÉS

COMPÉTENCE HG C.7. Raisonner, justifier une démarche et les choix effectués.

Je sais étudier un document (présenter le document, extraire des informations, les comprendre, les critiquer)

8. Doc. 3 VIDÉO Regardez de 05:05 à 7:37. Ce séisme au Japon de magnitude 8,9 est plus puissant que celui d'Haïti de magnitude 7,1. Que peut-on penser des dégâts causés au Japon en comparaison de ceux d'Haïti ?

9. Comment l'expliquez-vous ?

1. Haïti fait partie du continent américain et se trouve dans l'océan Atlantique.
2. L'île d'Haïti a été touchée par un grave tremblement de terre.
3. Les dégâts sont très importants car de nombreux bâtiments n'ont pas été construits par des gens compétents, souvent avec du béton de mauvaise qualité. De nombreuses habitations sont des cabanes de bidonvilles construites sur les sols instables des collines ayant connu la déforestation.
4. Le tremblement de terre d'Haïti a fait 250 000 morts.
5. La reconstruction est très lente car l'aide financière internationale est bloquée à cause du risque de corruption (détournement d'argent par des escrocs). Les haïtiens n'ont presque pas de matériel pour reconstruire et travaillent à la main.
6. Haïti a été aidé par la présence de secouristes américains ou français juste après la catastrophe. La communauté internationale apporte une aide financière.
7. Le Japon fait partie de l'Asie et se trouve dans l'océan pacifique.
8. En comparaison avec Haïti, les dégâts commis par le tremblement de terre sont assez limités. La plupart des constructions ne se sont pas effondrées.
9. Cela s'explique le pays est beaucoup plus riche, ce qui lui a permis de se préparer sérieusement au risque et de construire des bâtiments avec des normes parasismiques qui leur permettent de résister aux tremblements de terre. De plus la population a de bons réflexes car elle a l'habitude de faire des exercices pour s'entraîner.





Le palais présidentiel d'Haïti le 13.01.2010

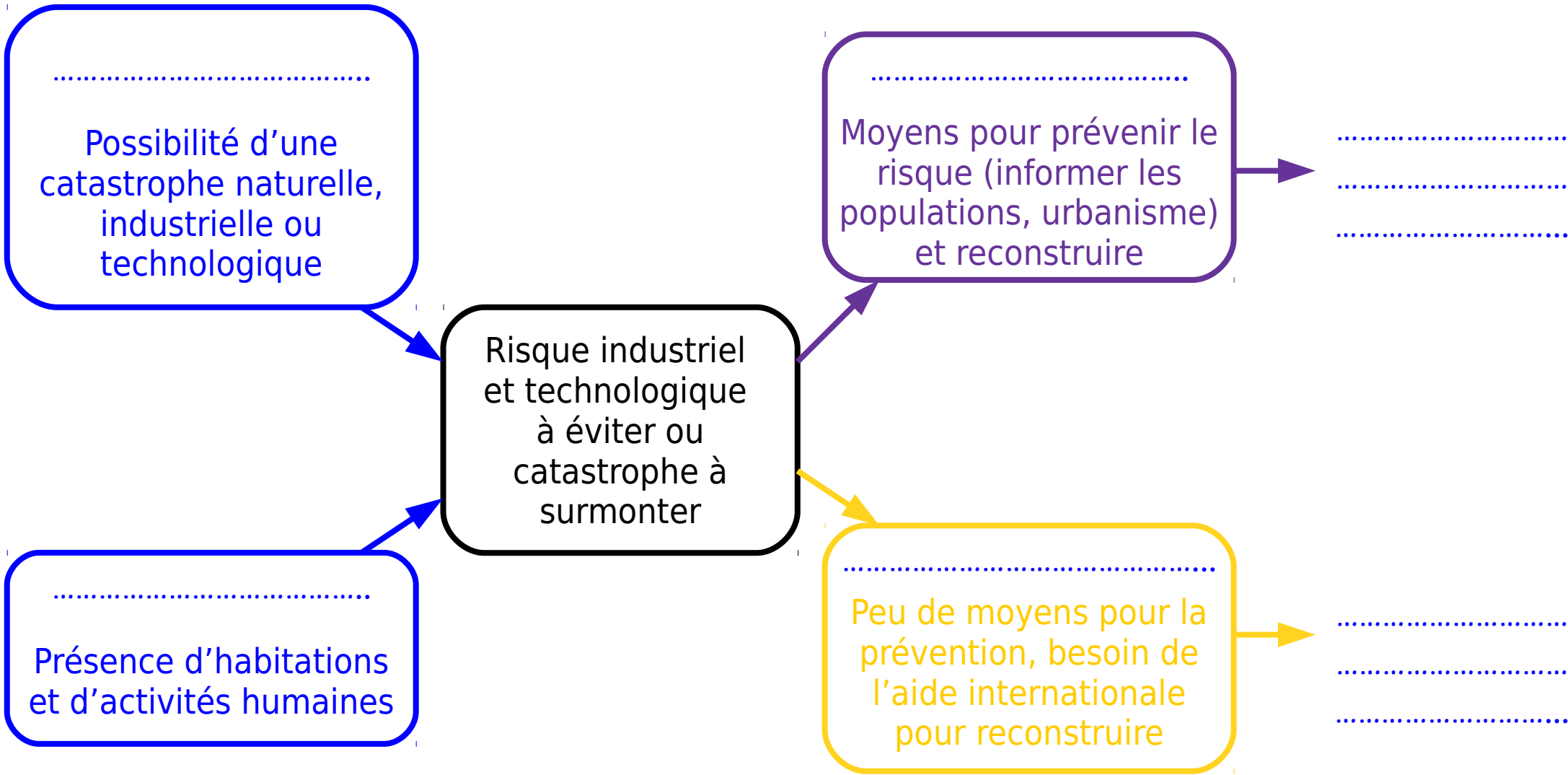
Photo : Logan Abassi / UNDP Global, United Nations Development Programme

V. Des sociétés inégalement vulnérables

Les sociétés ne sont pas égales face aux risques. La gestion du risque naturel dépend du niveau de développement d'un état. Ainsi, **les pays les plus pauvres sont plus vulnérables que les pays développés** :

Les pays développés mettent en place des mesures de prévention, qui permettent de limiter les effets d'une catastrophe (voir partie III) et ont les moyens de reconstruire rapidement.

Les moyens de prévention sont plus faibles dans les pays pauvres et la reconstruction plus difficile.



ACTIVITÉS COMPÉTENCE HG.D.11. *Les représentations du monde et l'activité humaine.* Je sais réaliser des productions graphiques ou cartographiques (croquis, carte, tableau, carte mentale ou schéma)

Complétez la carte mentale avec les expressions :

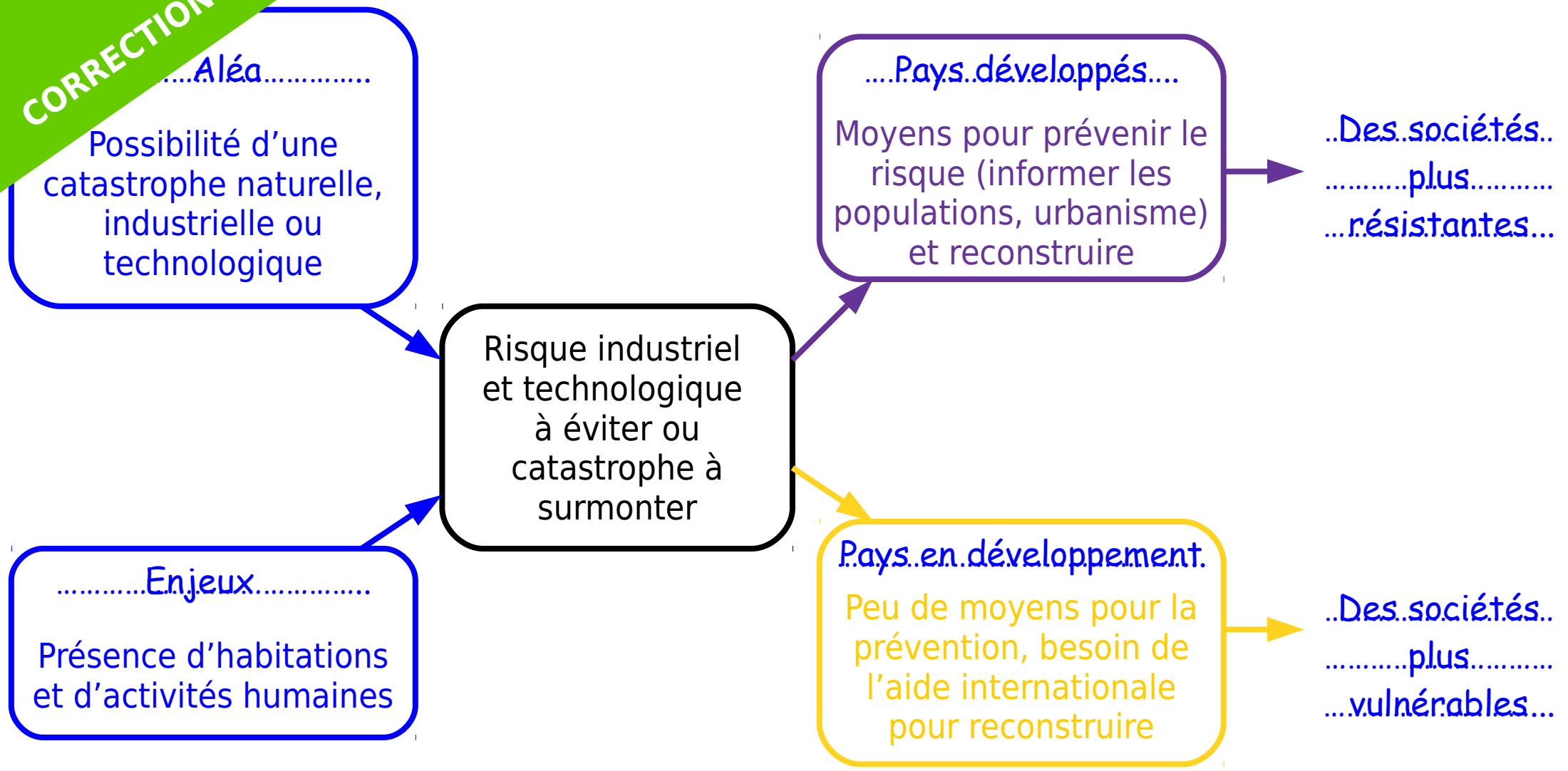
Enjeux Pays développés
Pays en développement

Des sociétés plus résistantes

Des sociétés plus vulnérables

Aléa

CORRECTION



ACTIVITÉS COMPÉTENCE HG.D.11. *Les représentations du monde et l'activité humaine.* Je sais réaliser des productions graphiques ou cartographiques (croquis, carte, tableau, carte mentale ou schéma)

Complétez la carte mentale avec les expressions :

Enjeux Pays développés Des sociétés plus résistantes Des sociétés plus vulnérables Aléa

Pays en développement



**Le travail
à faire**

1. Apprendre la leçon V

